

Retrouvez ce document et bien d'autres sur [grandprof.org](http://grandprof.org)

## EPREUVE DE GEOGRAPHIE

### I - PARTIE OBLIGATOIRE

#### A - Définitions.

- Agriculture de plantation 0,5x2 = 1pt
- Hamattan

#### B - Questions de cours.

- 1- Donnez une théorie qui explique l'instabilité de l'écorce terrestre. 0,5x2 = 1pt
- 2- Citez deux zones sismiques dans le monde 0,5x2=1pt
- 3- Citez deux conséquences de l'étirement du Cameroun en latitude 1 x 2=2pts
- 4- a) Citez deux zones où se pratique de façon intensive l'agriculture traditionnelle au Cameroun. 0,5 x 2 = 1 pt  
b) Qu'est-ce qui justifie la pratique de ce type d'agriculture dans ces zones? 1 x 1 = 1 pt
- 5- Citez deux types d'industries les plus courantes dans les pays du Tiers-Monde. 0,5x2=1pt
- 6- Donnez deux caractéristiques du sous-développement. 0,5 x 2 = 1pt

#### C - Travaux pratiques.

Sur le fond de carte du Cameroun ci-joint :

- 1 - a) Localisez les régions suivantes : l'Est, l'Ouest. 0,5x2=1pt  
b) Localisez leurs chefs lieux. 0,5x2=1pt
- 2- A l'aide des figurés de votre choix, indiquez deux régions où l'on cultive le coton. 0,5x2=1pt
- 3- peut-on cultiver le palmier à huile à Kousseri ?

### II- QUESTIONS AU CHOIX

Le candidat traitera au choix quatre questions sur les huit suivantes

1. Quelle différence y a-t-il entre une roche endogène et une Roche exogène ? 1x2=2pts
2. Donnez 4 lacs volcaniques du Cameroun. 0,5x4=2pts

Retrouvez ce document et bien d'autres sur [grandprof.org](http://grandprof.org)

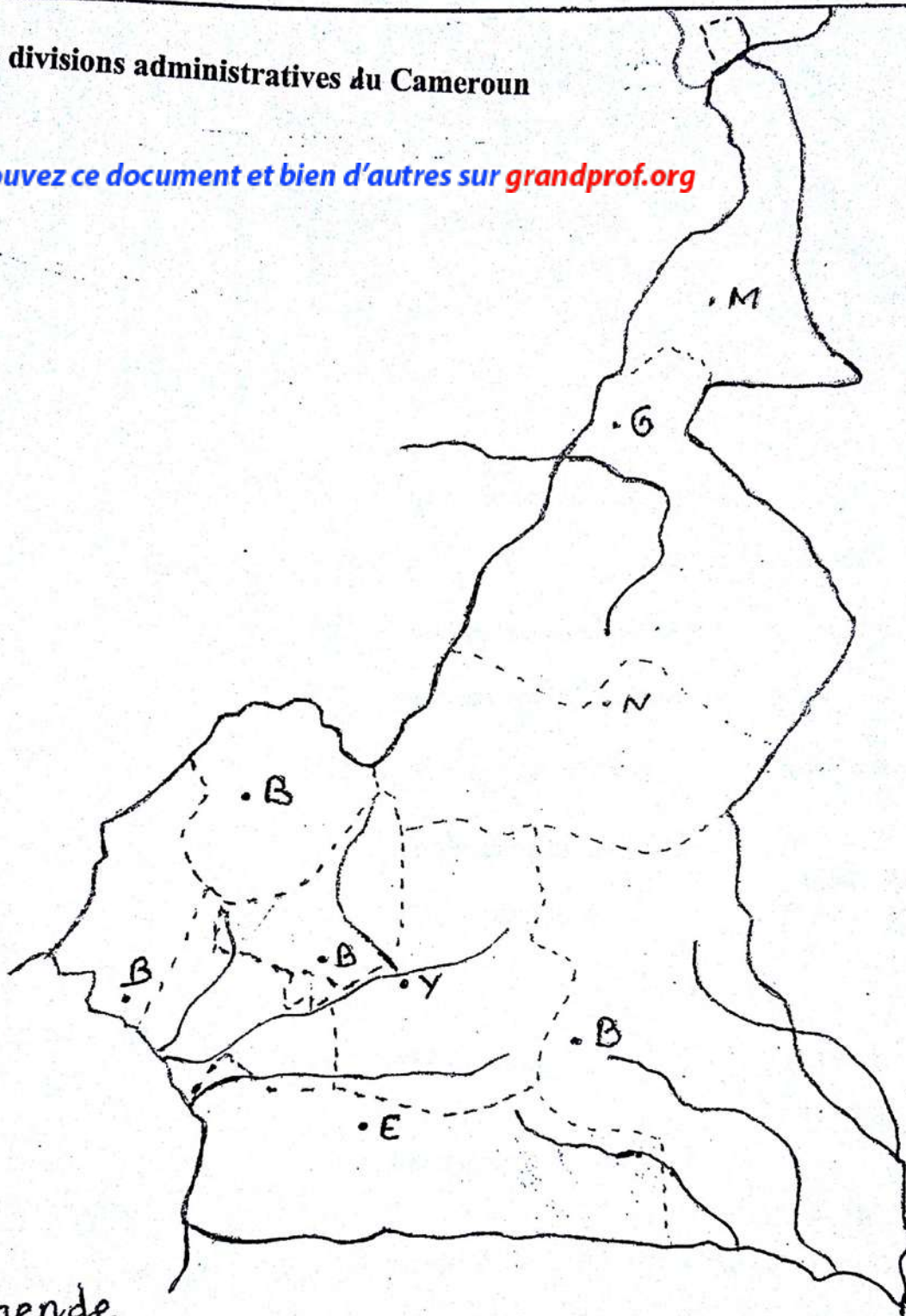
Retrouvez ce document et bien d'autres sur [grandprof.org](http://grandprof.org)

- 3- L'industrialisation du Cameroun connaît beaucoup de problèmes, citez en deux 1x2=2pts
- 4- a) Qu'est-ce que l'OPEP ? 1x1=1pt  
b) Citez deux pays africains membres de cette organisation ? 0,5x2=1pt
- 5- Définissez les sigles suivants : OMC, CBLT, BEAC, CDC. 0,5x4=2pts
- 6- Citez quatre pays membres de la CEMAC 0,5x4=2pts
- 7- Donnez quatre activités de la population rurale au Cameroun. 0,5x4= 2pts
- 8- Dans les transports maritimes citez deux canaux interocéaniques importants. 1x2 = 2pts






# Les divisions administratives du Cameroun

Retrouvez ce document et bien d'autres sur [grandprof.org](http://grandprof.org)



## Légende

-  Limites de région.
-  Cours d'eau.
-  Chefs-Lieux de région.
- 